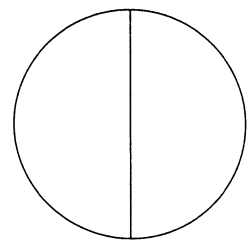
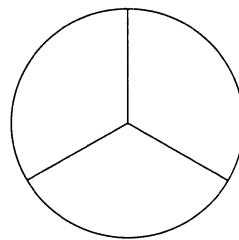
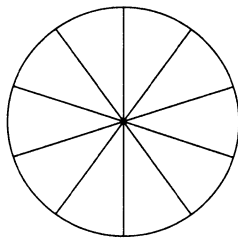
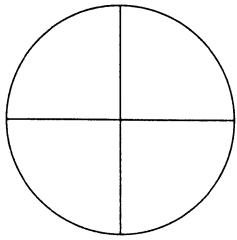
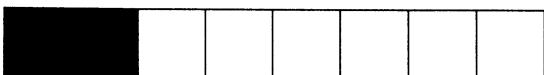



3 À chacune de ces phrases correspond une fraction. Retrouve-la et colorie le schéma qui convient pour qu'il la représente.

- Je te dis que j'ai eu 8 sur 10 au contrôle de mathématiques sur les fractions.
- J'ai déjà mangé les deux tiers de mes gâteaux.
- En jouant, j'ai perdu les trois quarts de mes billes.
- J'ai déjà complété la moitié de mon album d'images.



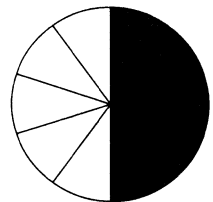
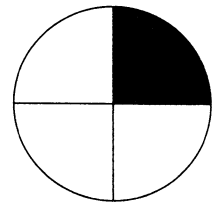
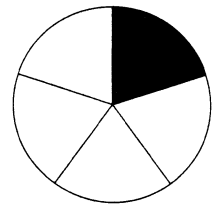
4 Relie les schémas équivalents.



•

•

•



•

•

•

